

# AVALIAÇÃO DIAGNÓSTICA 2013 – MATEMÁTICA – 3º ANO

Escola: \_\_\_\_\_


Professora: \_\_\_\_\_

Aluno: \_\_\_\_\_

Faça as questões abaixo com atenção e com calma.  
É uma avaliação que vai mostrar o que você já sabe e o que precisa aprender.

## Questão 01 – (D0)


Pedro convidou seus amigos para brincar em sua casa. Eles foram até seu quarto escolher o brinquedo que estava na prateleira. O brinquedo estava ao lado da peteca e acima do patins. O brinquedo é:



- (A) Patins
- (B) Peteca
- (C) Bola
- (D) Carrinho

## Questão 02 – (D1)

Era uma vez um pirata que vivia nos mares atrás de um tesouro.

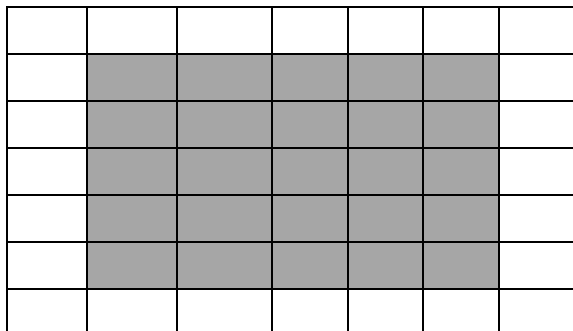


Observe no mapa a localização do baú com o tesouro. O baú está localizado na seguinte posição:

- (A) 6 D
- (B) 6 C
- (C) 6 B
- (D) 6 A

**Questão 03 – (D2)**

Observe a piscina que Marcos quer construir no quintal de sua casa. Sabendo que cada quadrado representa um azulejo, a quantidade de azulejos necessários para cobrir a área da piscina é:



(A) 25

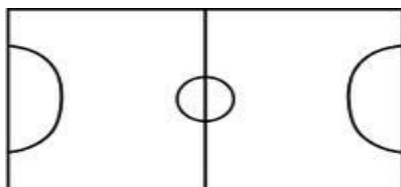
(B) 27

(A) 10

(B) 20

**Questão 04 – (D3)**

Observe o campo de futebol de botão que Juca ganhou de presente de aniversário.



A forma desse campo é:

(A) Quadrado

(B) Retângulo

(C) Triângulo

(D) Losango

**Questão 05 – (D4)**

Observe as figuras abaixo:



A figura que lembra uma esfera é:

(A) A bola

(B) O cone

(C) A lata

(D) O dado

**Questão 06 – (D8)**

Tatiane vai trocar a água do aquário



Para encher mais rápido o aquário ela utilizará

(A)



(C)



(B)



(D)



### Questão 07 – (D10)

Letícia foi ao supermercado fazer algumas compras. Observe o que ela comprou:



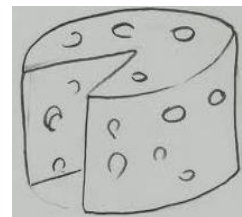
3 quilos



1 quilo



2 quilos



1 quilo

O peso total dos produtos comprados foi

(A) 4 quilos

(B) 5 quilos

(C) 6 quilos

(D) 7 quilos

### Questão 08 – (D11)

Dona Ana varre o quintal de sua casa sempre no mesmo dia da semana. Em janeiro de 2013, ela varreu o quintal nos dias 4, 11, 18 e 25, conforme o calendário abaixo:



Dona Ana varreu o quintal:

(A) Nas terças-feiras

(B) Nas quartas-feiras

(C) Nas quintas-feiras

(D) Nas sextas-feiras

### Questão 09 – (D14)

Lucas é um aluno muito estudioso e após o almoço ele pega sua mochila e vai para a Escola Estadual Mundo Alegre.

Observe o relógio e marque a hora que a aula de Lucas começa:

(A) 13 horas

(B) 14 horas

(C) 15 horas

(D) 16 horas



### Questão 10 – (D15)

No bairro onde moro, o ônibus passa de 30 em 30 minutos.

Se um ônibus passou às 10 h, a que horas passará o próximo ônibus?



(A) 11 horas

(B) 11 horas e 30 minutos

(C) 10 horas e 30 minutos

(D) 12 horas e 30 minutos

### Questão 11 – (D16)

Paula recebeu de seu pai a quantia abaixo para comprar uma mochila do Carrossel.




Paula recebeu a quantia de:

- (A) 30 reais      (B) 36 reais      (C) 18 reais      (D) 18 reais

### Questão 12 – (D17)

Na semana das crianças, a escola que André estuda organizou uma gincana. Sua turma participou da corrida de 100 metros. Observe a gravura abaixo para ver a classificação das crianças.



A posição de André, ao final da corrida, foi

- (A) 2º lugar      (B) 3º lugar      (C) 5º lugar      (D) 6º lugar

### Questão 13 – (D18)

Renato e alguns amigos foram ao campo assistir a uma partida de futebol. Eles foram ao jogo vestindo a camisa do seu time.




O número da camisa de Renato é:

- (A) Vinte e dois  
(B) Vinte e três  
(C) Vinte e quatro  
(D) Vinte e cinco

### Questão 14 – (D19)

Marina vai para escola sempre usando ônibus de número par. Veja alguns ônibus que passam perto da casa de Marina.

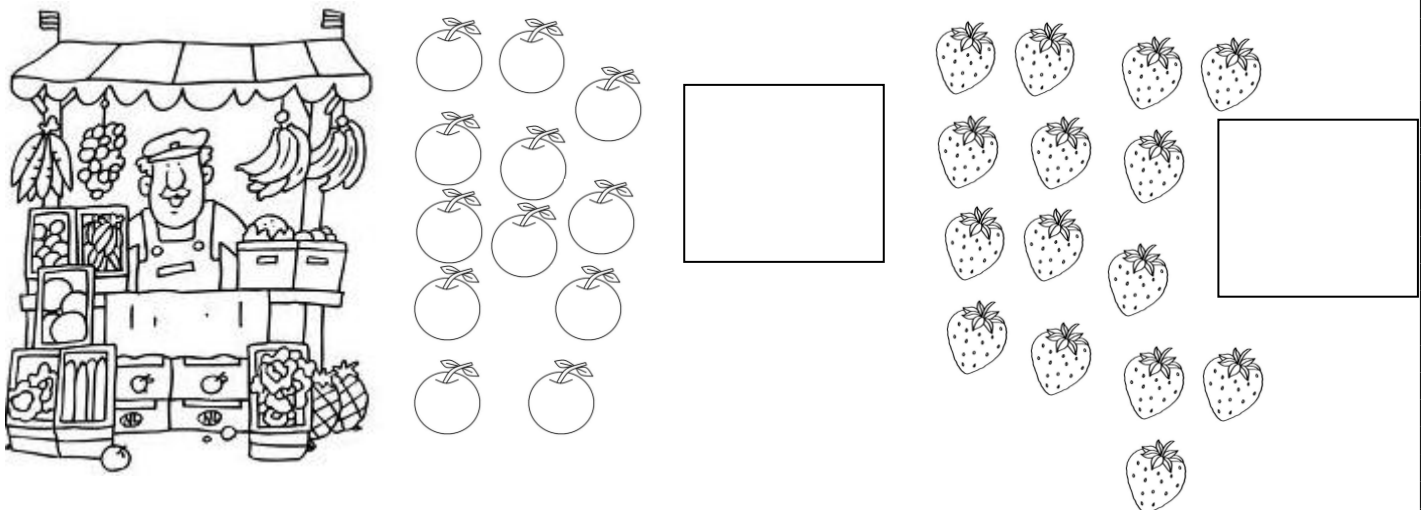


A alternativa em que todos os números são pares é:

- (A) 65 – 83 – 91    (B) 70- 80 – 90    (C) 65 – 70 – 80    (D) 70 – 85 - 90

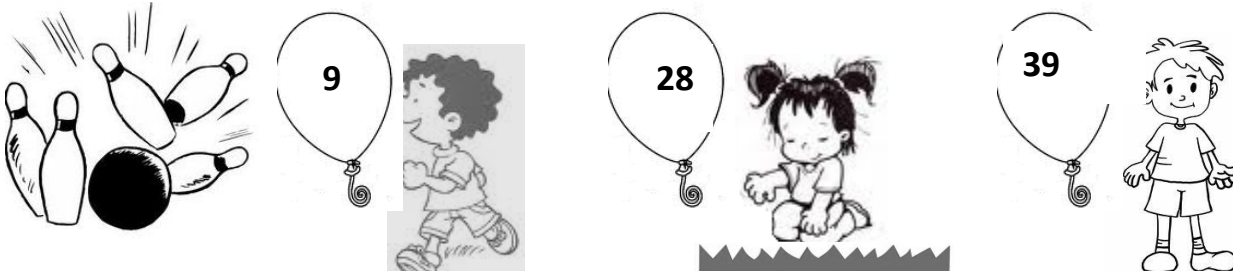
### Questão 15 – (D20)

Dona Geralda, mãe de Júlio, foi à feira comprar algumas frutas para fazer uma salada. Veja o que ela comprou e indique a quantidade de cada produto no quadro ao lado.



### Questão 16 – (D21)

A professora Fabiana levou seus alunos à quadra para fazer uma brincadeira de boliche. Veja a quantidade de pontos que os alunos André, Patrícia e Pedro fizeram.



André

Patrícia

Pedro

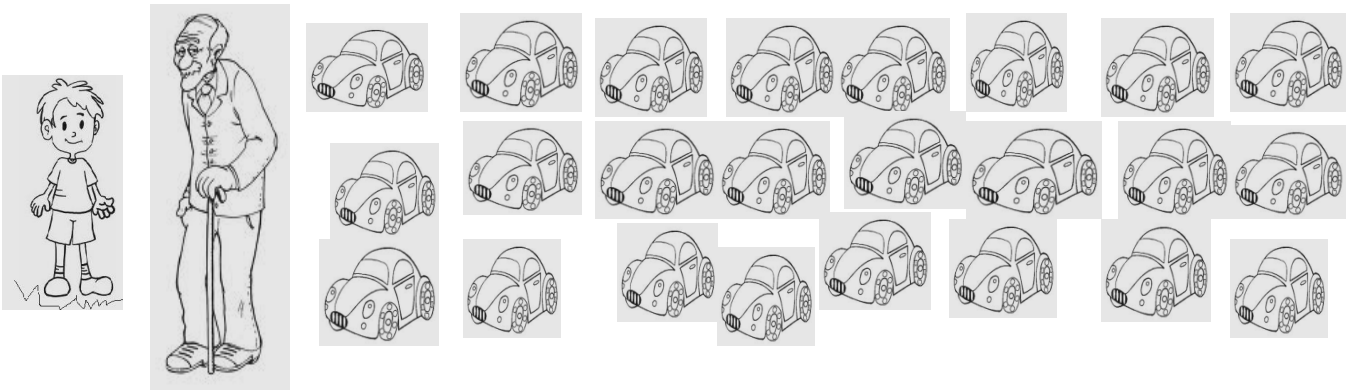
Após o arredondamento para a dezena mais próxima, a quantidade de pontos feitos pelas crianças foi:

- (A) 10, 20 e 30    (B) 10, 30 e 40    (C) 10, 20 e 40    (D) 10, 30 e 20



**Questão 17 – (D22)**


O avô de Vinícius tem uma coleção de carrinhos que guarda desde criança. Descubra quantos carrinhos há na coleção agrupando-os em dezenas.



- (A) 24 dezenas de carrinhos  
(B) 2 dezenas e 4 unidades de carrinhos  
(B) 4 dezenas e 2 unidades de carrinhos  
(D) 20 unidades de carrinhos

**Questão 18 – (D23)**

Leia a história:



A idade da tartaruginha pode ser decomposta da seguinte forma:

- (A) 7 dezenas  
(B) 7 dezenas e 6 unidades  
(C) 6 dezenas e 7 unidades  
(D) 76 dezenas

**Questão 19 – (D24)**

No conjunto de casas de um bairro próximo, os moradores estão pintando os seus números. Ajude-os a completar a tarefa.



- (A) 62 e 64  
(B) 68 e 70  
(C) 59 e 60  
(D) 60 e 62

### Questão 20 – (D25)

João e seus amigos foram ao cinema. Eles compraram os ingressos antecipados. Veja abaixo:




Os ingressos organizados em ordem crescente é:

- (A) 42 – 53 – 64 – 39                      (C) 39 – 42 – 64 – 53  
(B) 39 – 42 – 53 – 64                      (D) 64 – 53 – 42 – 39

### Questão 21 – (D26)

Veja quantos quilos Miguel está pesando.



O valor posicional do algarismo 3 é

- (A) 3                      (B) 30                      (C) 300                      (D) 3000

### Questão 22 – (D27)

Jonas foi fazer uma viagem. Depois de percorrer uma longa distância, um dos pneus de seu carro furou e ele parou na borracharia.



Assinale o quadrinho que indica a localização da borracharia.


- (A) 60                      (B) 61                      (C) 62                      (D) 63

### Questão 23 – (D28)

Na festa de Carolina, havia



46 meninos



52 meninas

O total de crianças que estavam na festa é:

- (A) 6                      (B) 46                      (C) 52                      (D) 98

**Questão 24 – (D29)**

Em uma caixa de lápis de cor tem 6 lápis. Em 3 caixas terão:



- (A) 6
- (B) 9
- (C) 12
- (D) 18

**Questão 25 – (D32)**

Marcos foi ao zoológico e lá ele observou como os macaquinhos gostam de comer bananas. Veja a quantidade de bananas que os macaquinhos comeram.

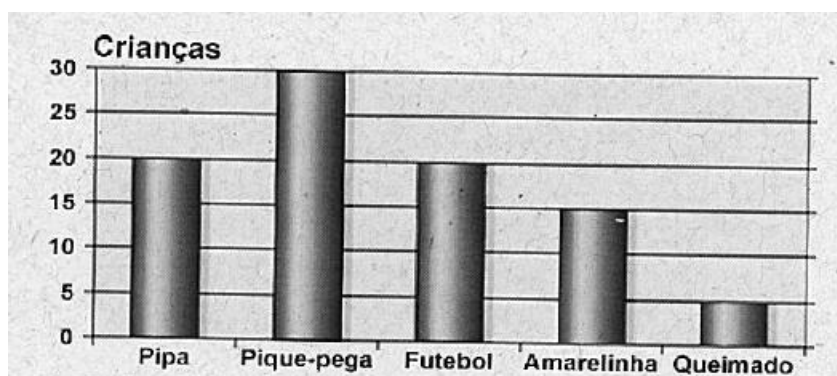


No dia seguinte, chegou outro macaquinho guloso que comeu o dobro de bananas. Este macaquinho comeu:

- (A) 5
- (B) 7
- (C) 10
- (D) 15

**Questão 26 – (D33)**

Foi feita uma pesquisa na rua onde Márcia mora para descobrir a brincadeira preferida das crianças e o resultado foi:



De acordo com o gráfico, a brincadeira preferida pelas crianças é:

- (A) pipa
- (B) amarelinha
- (C) queimada
- (D) pique-pega



# **ATENÇÃO!!!!!!**

## **ORIENTAÇÃO À PROFESSORA:**

Prezado professor,

Na avaliação de Matemática do 3º ano, deverão ser lidos os enunciados de cada questão aos alunos.